



Památné stromy

Přírodověda pro 6. - 9 třídu



Úkol 1: Co je památný strom?

Seřaď uvedená slova tak, aby dávala smysluplnou definici:

Památný strom je _____.

KTERÝ

A

ÚCTU

MÁ


LIDÍ

STROM

CHRÁNĚNÝ

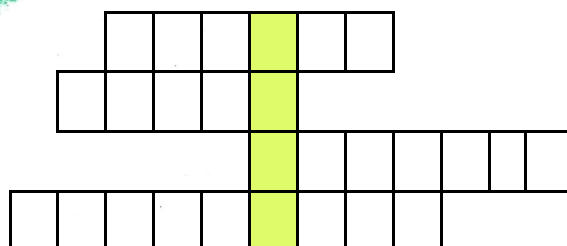
OCHRANU

Úkol 2: Který strom je nejčastějším památným stromem v ČR?




Přečti si důvody ochrany a vyhlášení památných stromů a doplň do tajenky vyznačená slova v 1. pádě.

Nejčastějším památným stromem v ČR je:



**Úkol 3: Které stromy lidé nejvíce uctívali?
Poznáš je podle listů? Napiš jejich jména.**









**Úkol 4: Najdi památný strom ve svém okolí a doplň o něm údaje do tabulky.
K jeho nalezení ti pomůže například web mapy.cz, kde uvidíš
obrázek zeleného stromku.**

Název PS:	
Druh stromu:	
Obvod kmene ve výšce 130 cm:	
Průměr kmene:	Odhad výšky stromu:
Kde se PS nachází a čím je zajímavý:	

**Úkol 5: Nakresli list (v letním období)
nebo větvičku s pupeny (v zimním
období) „tvého“ památného stromu.**



Nakresli obrys koruny stromu.



Tento badatelský list patří: _____